

2024 年度 全国通訳案内士試験
第 1 次試験 日本地理

Season 3-1

地域別問題

（北海道・東北地方②）



Marho CC BY-SA 4.0



樺 CC BY-SA 4.0

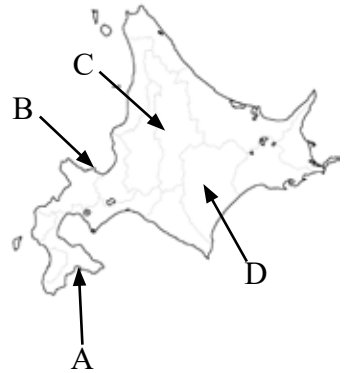
S3-1-1 問題

- (1) 写真は、北海道にある動物園に設けられた「レッサーパンダの吊り橋」である。この動物園は、動物の自然な生態が見られる行動展示を実施して有名になり、特に外国人の来園が多い。この動物園の所在地を地図から、また、その名称を選択肢から選びなさい。



標 CC BY-SA 4.0

- | | | |
|----|----------------------------------|-------------------------------|
| 地図 | ① A | ② B |
| | ③ C | ④ D |
| 名称 | ① <small>まるやま</small> 円山動物園 | ② <small>ひがしやま</small> 東山動植物園 |
| | ③ <small>たかさきやま</small> 高崎山自然動物園 | ④ <small>あさひやま</small> 旭山動物園 |



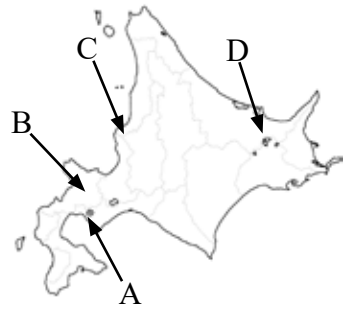
- (2) 1972年に開催された『札幌オリンピック』でスキージャンプ競技が開催された場所で、現在でもサマージャンプやナイタージャンプが可能な設備を整えており、国内大会や国際大会を数多く開催しているスキージャンプ場の名称を選びなさい。

- | | | | |
|-----------------------------|-----------------------------|----------------------------|----------------------------|
| ① <small>おおくらやま</small> 大倉山 | ② <small>ひつじがおか</small> 羊ヶ丘 | ③ <small>もいわやま</small> 藻岩山 | ④ <small>ごてんざん</small> 五天山 |
|-----------------------------|-----------------------------|----------------------------|----------------------------|

- (3) 札幌市には、開拓使によって建設された建物が多々残っている。例えば、札幌市中央区にある時計台の愛称で呼ばれている旧札幌農学校（ A ）は1878年に竣工した建物である。同じく、札幌市中央区の中島公園にある（ B ）は、もとは現在の大通に1880年に建造された高級西洋ホテルで、最初の利用者は明治天皇であった。また、札幌市北区には、1880年に「貴賓接待所」として建てられた（ C ）があるが、洋室と和室を持つ、当時としては珍しい建物であった。空所に入る語を選びなさい。

- | | | | |
|---------------------------------|-----------------------------|------------------------------|-------------------------------|
| (A) ① 記念講堂 | ② 演武場 | ③ 図書館 | ④ <small>ようさんかく</small> 養蚕学教室 |
| (B) ① <small>こうらくかん</small> 康楽館 | ② <small>えいらくかん</small> 永楽館 | ③ <small>ちようらくかん</small> 長楽館 | ④ <small>ほうへいかん</small> 豊平館 |
| (C) ① <small>せんしんてい</small> 洗心亭 | ② <small>いじょうかく</small> 移情閣 | ③ <small>せいかてい</small> 清華亭 | ④ <small>じんふうかく</small> 仁風閣 |

(4) 蝦夷富士の愛称で呼ばれる山の所在地を (a) 地図 から選ひなさい。また、その山の麓ふもとにある、北海道遺産にも認定されている (b) 観光地を選ひなさい。



- (a) ① A ② B
 ③ C ④ D

- (b) ①ふきだし公園 ②オンネトー ③銀河ぎんがの滝 ④四季彩しきさいの丘

(5) 北海道にある観光地で、同じ市内にあるものの組み合わせとして正しいものを選ひなさい。

- ①能取湖のとろこ—紫竹しちくガーデン
 ②湯の川温泉—オホーツク流氷館
 ③北の大地の水族館—温根湯温泉おんねゆ
 ④幸福こうふく駅—トラピスチヌ修道院

S3-1-2 問題

- (1) 下北半島には本州最北端の岬である（ A ）があり、その南方にある漁港はマグロの一本釣りの名所として知られている。半島中央部にある山地の麓には、カルデラ湖の（ B ）があり、その湖畔には日本三大霊場の一つが存在する。半島の西岸には（ C ）と呼ばれる写真の奇岩景観の景勝地がある。下北半島は、数多くの野生生物の生息北限地となっているが、天然記念物に指定されている（ D ）はそのひとつである。空所に入る語を選びなさい。

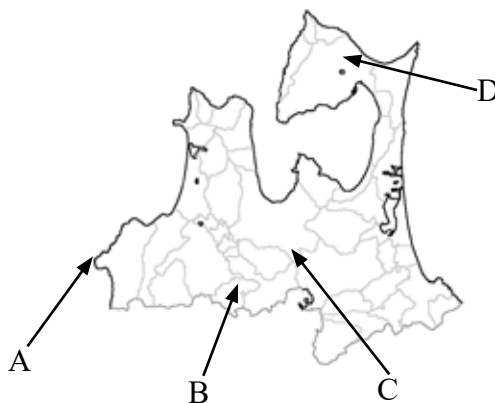


金沢 CC BY-SA 4.0

- | | | | |
|------------|------|---------|--------|
| (A) ①尻屋崎 | ②高野崎 | ③大間崎 | ④竜飛崎 |
| (B) ①宇曾利山湖 | ②十三湖 | ③小川原湖 | ④十二湖 |
| (C) ①千畳敷海岸 | ②仏が浦 | ③種差海岸 | ④鱒ヶ沢 |
| (D) ①ヒグマ | ②イトウ | ③シマフクロウ | ④ニホンザル |

- (2) 地図は青森県にある温泉地を示しているが、温泉地名と所在地が合致している組み合わせを選びなさい。

- ① A - 薬研温泉
 ② B - 黄金崎不老不死温泉
 ③ C - 酸ヶ湯温泉
 ④ D - 大鱈温泉



(3) 青森県にある観光地と所在市の組み合わせで正しいものを選びなさい。

- ① ^{しゃようかん}斜陽館 — ^{ごしょがわら}五所川原市
② ^{なかちよう}仲町 (重伝建) — つがる市
③ ^{おいらせ}奥入瀬溪流 — ^{ひろさき}弘前市
④ ^{かめがおか}亀ヶ岡遺跡 — ^{とわだ}十和田市

(4) 岩手県東部に展開する、(A) は、その約 7 割が岩手県内に存在する。その最高峰は標高 1917 m の (B) で、南麓にある^{とおの}遠野市には、日本民俗学を確立した (C) がこの地方に伝わる逸話・伝承などを記した説話集の舞台となった「カップ淵」がある。空所に入れる語を選びなさい。

- | | | | |
|------------------------------|-------------------------------|----------------------------|---------------------------|
| (A) ① ^{あぶくま} 阿武隈高地 | ② ^{きたかみ} 北上山地 | ③ ^{おう} 奥羽山脈 | ④ ^{しらかみ} 白神山地 |
| (B) ① ^{はやちねさん} 早池峰山 | ② ^{いわきさん} 岩木山 | ③ ^{いわてさん} 岩手山 | ④ ^{はっこうださん} 八甲田山 |
| (C) ① ^{みやざけんじ} 宮沢賢治 | ② ^{きんだいちきょうすけ} 金田一京助 | ③ ^{にとべいなぞう} 新渡戸稲造 | ④ ^{やなぎたくにお} 柳田國男 |

S3-1-3 問題

宮城県は親潮と黒潮が合流する潮目を沖合に持つため、日本で唯一複数の(1)特定第3種漁港を有している。県都である(2)仙台市は政令指定都市であり、東北最大の都市で観光地としても名高く史跡も多い。宮城県は(3)温泉や自然景観にも恵まれ、その多くが自然公園に指定されている。

(1) 下線部(1)を有する宮城県内の市として正しくないものを選びなさい。

- ①しおがま塩竈市 ②けせんぬま気仙沼市 ③おおふなと大船渡市 ④いしのまき石巻市

(2) 下線部(2)に所在する施設を選びなさい。

- ①かんらんてい観瀾亭 ②ずいがんじ瑞巖寺 ③こがねやま黄金山神社 ④ずいほうでん瑞鳳殿

(3) 下線部(3)に含まれるものを選びなさい。

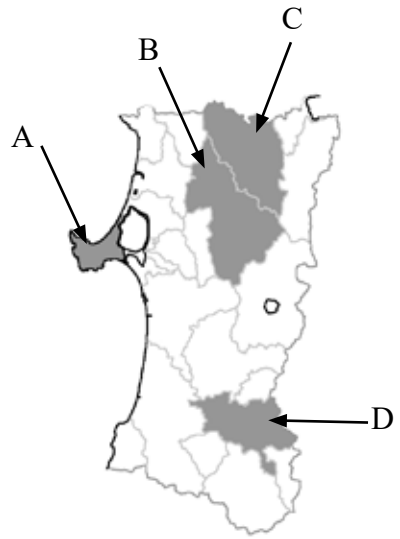
- ①げとう夏油温泉 ②おかま御釜 ③りゅうせんだう龍泉洞 ④もうつうじ毛越寺

(4) 東北地方の伝統料理や特産物、および、それらが伝わる、あるいは、それらの産地として知られる県名の組み合わせとして正しいものを選びなさい。

- ①だけ嶽きみ—青森県
②わんこそば—秋田県
③笹かまぼこ—岩手県
④石焼料理—宮城県

(5) 写真に示された秋田県の伝統行事・工芸品が伝わる市を地図から選びなさい。

- (ア) ① A ② B
 ③ C ④ D
- (イ) ① A ② B
 ③ C ④ D
- (ウ) ① A ② B
 ③ C ④ D
- (エ) ① A ② B
 ③ C ④ D



(社) 横手市観光協会
CC BY-SA 4.0



Marho CC BY-SA 4.0



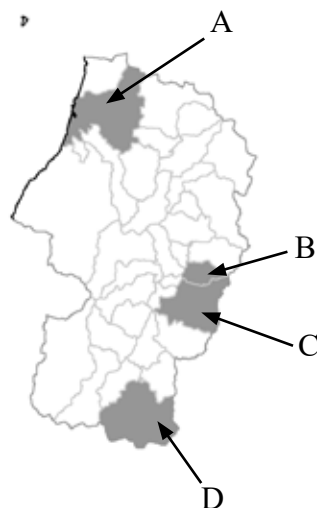
sota CC BY-SA 4.0

S3-1-4 問題

(1) 山形県に関する次の説明と合致する地図上の記号を選びなさい。

- ① うえすぎ 上杉家が関ヶ原の戦いの戦後処理として げんぼう 滅封されたあと本拠地とした地で、びょうじょ 上杉家廟所や うえすぎけんしん 上杉謙信を祀る上杉神社がある。

- ① A ② B
③ C ④ D



- ② 「さんきょ 山居倉庫」と呼ばれる、明治期に作られた2重屋根を持つ防湿・低温管理倉庫があり、米穀倉庫・観光施設として使用されている。

- ① A ② B ③ C ④ D

- ③ まつおばしやう 松尾芭蕉の『おくのほそ道』における訪問地の一つで、「しずか 閑さや岩にしみ入る せみ 蝉の声」の句碑がある寺院が所在する。

- ① A ② B ③ C ④ D

- ④ この地で生産される将棋駒は国産製品の95%を占めており、1996年に伝統工芸品に指定されている。

- ① A ② B ③ C ④ D

(2) 山形県中央の にしむらやま 西村山郡に所在する、げんろく 元禄年間から大正初期にかけて もがみがわ 最上川舟運の中継地として大いに栄えた町で、「もがみがわ 最上川の流通・往来及び あてらざわまち 左沢町場の景観」として重要文化的景観に選定されている地を選びなさい。

- ① にしかわまち 西川町 ② あさひまち 朝日町 ③ かほくちやう 河北町 ④ おおえまち 大江町

(3) 次は福島県の伝統行事、観光施設、名勝などの説明であるが、それらが伝わる、あるいは、所在する自治体名を選びなさい。

① 甲冑姿の騎馬武士が競い合う伝統行事が重要無形民俗文化財に指定されている。

- ①いわき市 ②^{しもごうまち}下郷町 ③^{そうま}相馬市 ④^{いなわしろまち}猪苗代町

② 炭鉱跡地の鉱底をボーリングして開発された源泉を利用した大型レジャー施設がある。

- ①いわき市 ②^{しもごうまち}下郷町 ③^{そうま}相馬市 ④^{いなわしろまち}猪苗代町

③ 川による浸食で生じた塔の形の奇岩が並ぶ溪谷があり、「塔のへつり」と呼ばれている。

- ①いわき市 ②^{しもごうまち}下郷町 ③^{そうま}相馬市 ④^{いなわしろまち}猪苗代町

④ 黄熱病の研究で知られる^{のぐちひでよ}野口英世の出身地で、同氏を記念した「野口英世記念館」がある。

- ①いわき市 ②^{しもごうまち}下郷町 ③^{そうま}相馬市 ④^{いなわしろまち}猪苗代町

(4) 福島県の会津若松市は、(A)の西に位置し、江戸時代には会津藩の城下町として盛え、史跡豊かな観光資源として有名である。市内には、会津松平氏庭園の(B)や会津藩校であった旧(C)などが復元整備されている。また、会津戦争の時に白虎隊が自刃した(D)の中腹には、さざえ堂と通称される、二重らせん構造で上りと下りが別の通路になっている珍しい構造の(E)がある。空所に入れる語を選びなさい。

- | | | | |
|------------------------------|-------------------------|--------------------------|--------------------------|
| (A) ① ^{ひばらこ} 桧原湖 | ② ^{おのがわこ} 小野川湖 | ③ ^{あきもとこ} 秋元湖 | ④ ^{いなわしろこ} 猪苗代湖 |
| (B) ① ^{すいらくえん} 翠楽苑 | ② ^{おやくえん} 御薬園 | ③ ^{じょうらくえん} 浄楽園 | ④ ^{りよくすいえん} 绿水苑 |
| (C) ① ^{こうじょうかん} 興譲館 | ② ^{にっしんかん} 日新館 | ③ ^{めいとくかん} 明德館 | ④ ^{ようけんどう} 養賢堂 |
| (D) ① ^{たしろやま} 田代山 | ② ^{いいでさん} 飯豊山 | ③ ^{いもりやま} 飯盛山 | ④ ^{がもうだけ} 蒲生岳 |
| (E) ① ^{さんそうどう} 三叟堂 | ② ^{なげいれどう} 投入堂 | ③ ^{ごだいどう} 五大堂 | ④ ^{しょうてんどう} 聖天堂 |



〒169-0075 東京都新宿区高田馬場 2-14-5 サンエスビル 2F

TEL 03-5291-1820 FAX 03-5291-1821

<https://www.cel-eigo.com>

授業教材および授業内容（音声・映像など）の著作権は全て CEL 英語ソリューションズ™に帰属します。
著作者の許可なしに複製・印刷を行うこと、および、教材や授業ビデオのダウンロード元 URL を第三者に伝達・
開示することを禁止します。